



U.T.P.

EVALUACIÓN FORMATIVA
7° BÁSICO
ESTUDIANTES PROGRAMA DE INTEGRACIÓN ESCOLAR (P.I.E)

Profesora asignatura: Paola Pizarro

Docentes PIE: Andrea Maluje – Fernanda López

Nombres:	Apellidos:	RUN:	CURSO:
			Letra:
60% de Exigencia	Puntaje Máximo	Puntaje Obtenido	Fecha:
Puntaje mínimo 9 puntos	14 puntos	

Tiempo considerado: 60 minutos.

Semana 9: 25 a 29 de mayo


Objetivos: 0A1 - OA4 - OA10

Estándar: EAM6 - EAM16 - EAM31

Habilidades: Comunicar, Representar y Resolver problemas.

Orientaciones: El estudiante puede trabajar la evaluación con ayuda y supervisión de algún miembro de la familia para poder orientar y responder posibles dudas.

I.- Selecciona la alternativa correcta y responde marcando con una X la respuesta que estimes conveniente. (16 puntos)

<p>1.- La siguiente representación nos indica el siguiente porcentaje:</p> <p>a) 20 %</p> <p>b) 50%</p> <p>c) 25%</p>	<p>(Observa cuantos cuadrados hay pintados)</p> 
<p>2.- Al calcular el 10% de 4.200 no da:</p> <p>a) 42</p> <p>b) 420</p> <p>c) 4</p>	<p><u>Consejo:</u> Puedes seguir la regla de 3</p> <p>(coloca el total que sería 4.200 multiplicado por el 10% que te piden, dividiendolo con el 100% correspondiente)</p> <p>4.200 x 10 : 100</p>

3.- En una tienda de la ciudad el teléfono SAMSUNG GALAXY A30SBLACK64' esta con un descuento de un 50% durante esta semana. Si compró el celular ¿Cuánto debería pagar?

- a) \$ 78.000
- b) \$ 139.000
- c) \$ 79.995



-50%

4G+WiFi

25+5+8 MP



SAMSUNG

SAMSUNG GALAXY A30S BLACK 6.4"

\$159.990

Sigue los pasos de esta operación y llegaras al resultado.

El costo del teléfono es de 159.990 y el descuento es del 50%.

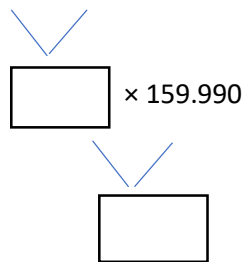
Primero vas a juntar todos los %, esto quiere decir.

50% : 100%.

Una vez hayas obtenido el resultado, lo debes **multiplicar** con el precio del teléfono (159.990).

Así debería quedar tu operación:

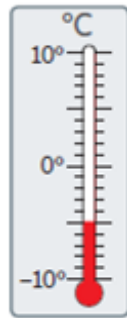
50% : 100%



4.- ¿Cuál de estos cuatro termómetros registra la temperatura que esta a **menor distancia** del 0°C ?

(fijate bien cual de estos cuatro termómetro registra una **temperatura** que esta mas cerca del 0°C)

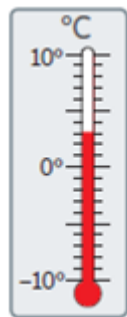
a)




b)



c)

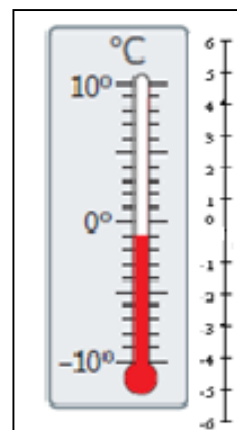


d)



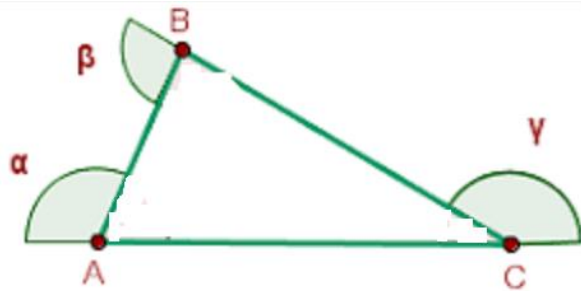
5.- ¿Cuál de las siguientes temperaturas se puede representar como un número entero negativo?

- a) Cero grados.
- b) Dos grados bajo cero.
- c) Cuatro grados sobre cero.



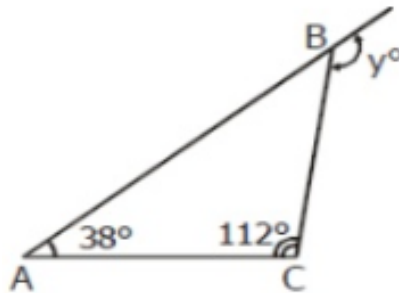
6.- Los polígonos están formados por tres o más segmentos de una recta. Los polígonos regulares son aquellos que sus lados y ángulos son de igual medida. La suma de los ángulos exteriores de un triángulo es :

- a) 180°
- b) 60°
- c) 360°



7.- ¿Cuánto mide el ángulo y?

- a) 30°
- b) 90°
- c) 150°



Traspasa las respuestas a esta tabla marca con X.

TABLA DE RESPUESTA				
	A	B	C	D
1	<input type="checkbox"/>	<input type="checkbox"/>	<input type="checkbox"/>	<input type="checkbox"/>
2	<input type="checkbox"/>	<input type="checkbox"/>	<input type="checkbox"/>	<input type="checkbox"/>
3	<input type="checkbox"/>	<input type="checkbox"/>	<input type="checkbox"/>	<input type="checkbox"/>
4	<input type="checkbox"/>	<input type="checkbox"/>	<input type="checkbox"/>	<input type="checkbox"/>
5	<input type="checkbox"/>	<input type="checkbox"/>	<input type="checkbox"/>	<input type="checkbox"/>
6	<input type="checkbox"/>	<input type="checkbox"/>	<input type="checkbox"/>	<input type="checkbox"/>
7	<input type="checkbox"/>	<input type="checkbox"/>	<input type="checkbox"/>	<input type="checkbox"/>
8	<input type="checkbox"/>	<input type="checkbox"/>	<input type="checkbox"/>	<input type="checkbox"/>

Envía tu tabla de respuesta a la profesora Paola Pizarro Zúñiga al correo pizarropaola440@gmail.com

paola.pizarro@colegio-moisesmussa.cl